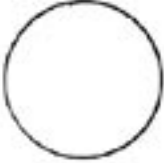
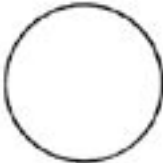
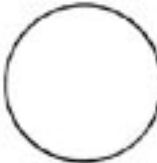


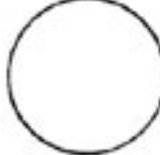


I Det grundläggande i den icke-levande naturen

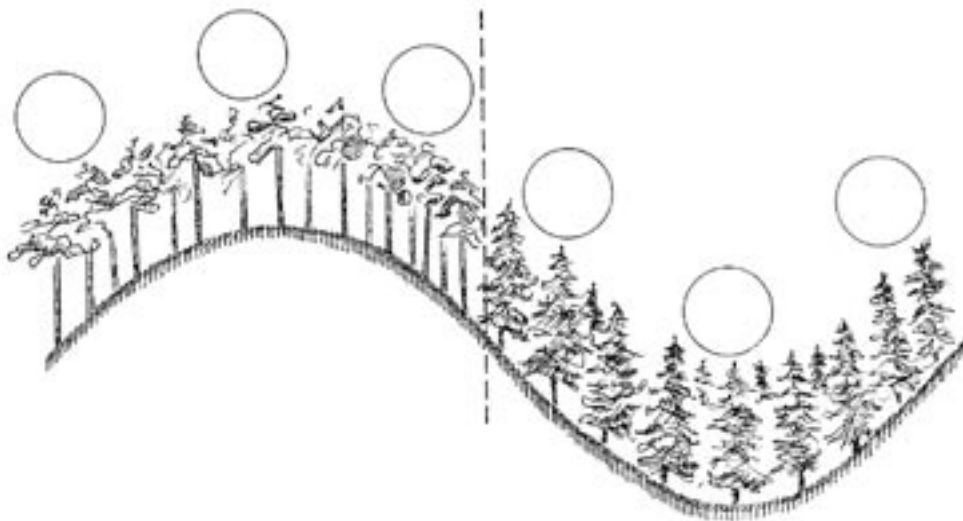
Värme och ljus

Bedöm vilken av platserna som är ljusare eller skuggigare

uppe på berget	Plats 1 	Plats 2 	Plats 3 
i däliden	Plats 1 	Plats 2 	Plats 3 

Rapport:

- Skriv in alla resultat från temperaturmätningarna i schemat.
- Koppla samman resultaten från undersökningen av ljusförhållanden i däliden och uppe på berget skilt för sig och räkna ut ett medelvärde. Skriv in medelvärdet för temperaturen i däliden och uppe på berget i schemat.



Slutsatser:

Besvara åtminstone följande frågor:

- Är temperaturen och ljusförhållandena olika uppe på berget och i däliden?
- Vad beror temperaturskillnaderna och skillnaderna i ljusförhållandena på?
- Jämför de olika gruppernas resultat. Vad kan till exempel skillnaderna i resultaten från mätningarna av ljusförhållandena bero på?