







### III Arters förmåga att överleva

#### Anpassning till ett liv i kyla

Anteckna i rutfältet de knep som finns för att anpassa sig till ett liv i kyla och räkna upp de arter som använder knepen.

<p>1. Anpassningsknep:</p>  <p>Arter:</p>	<p>2. Anpassningsknep:</p>  <p>Arter:</p>
<p>3. Anpassningsknep:</p>  <p>Arter:</p>	<p>4. Anpassningsknep:</p>  <p>Arter:</p>
<p>5. Anpassningsknep:</p>  <p>Arter:</p>	<p>6. Anpassningsknep:</p>  <p>Arter:</p>