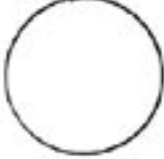

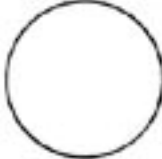


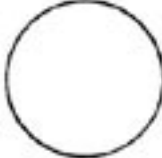


I Elottoman luonnon perustekijät

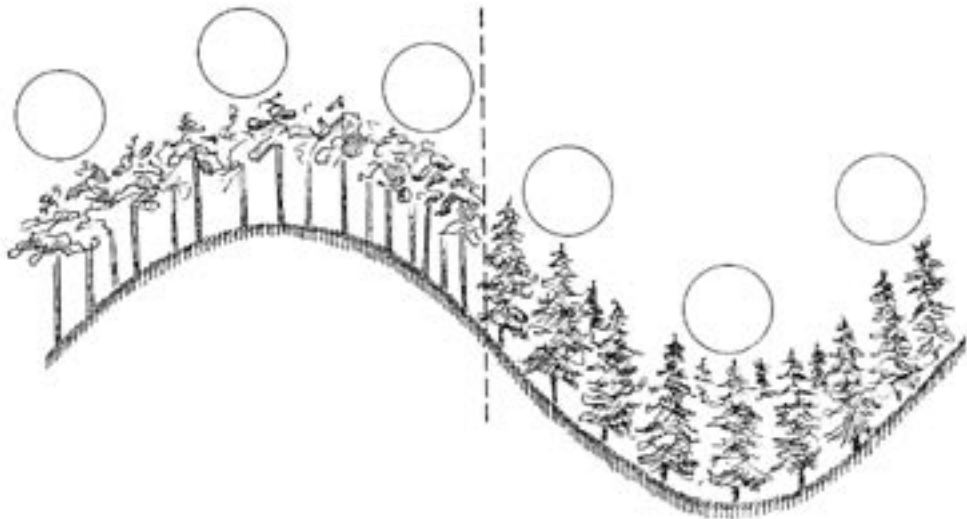
Lämpö ja valoisuus (jatko-osa)

Arvioi, kumpi mittauspaikoista on valoisampi tai varjoisampi

	Paikka 1	Paikka 2	Paikka 3
laki			
	Paikka 1	Paikka 2	Paikka 3
notko			

Tutkimusraportti:

- Sijoita kaikki lämpötilamittauksen tulokset kuvaan.
- Yhdistä valoisuustutkimuksen tulokset notkosta ja laelta kummastakin yhdeksi näkymäksi arvioimalla. Sijoita sekä notkon että laen arvionäkymä kuvaan.

**Johtopäätökset:**

Vastaa ainakin seuraaviin kysymyksiin:

Onko laen ja notkon lämpötilassa ja valoisuudessa eroa?

Pohdi, mistä lämpötilan ja valoisuuden erot johtuvat.

Vertailkaa eri ryhmien tutkimustuloksia. Mistä erot esimerkiksi valoisuustutkimuksessa saattavat johtua?