







III Eliöiden selviämiskeinoja

Sopeutuminen kylmyyteen

Täytä ruudukkoon kylmään sopeutumisen keino ja luettele niitä eliöitä, jotka käyttävät seuraavia keinoja.

<p>1. Sopeutumiskeino:</p>  <p>Eliöitä:</p>	<p>2. Sopeutumiskeino:</p>  <p>Eliöitä:</p>
<p>3. Sopeutumiskeino:</p>  <p>Eliöitä:</p>	<p>4. Sopeutumiskeino:</p>  <p>Eliöitä:</p>
<p>5. Sopeutumiskeino:</p>  <p>Eliöitä:</p>	<p>6. Sopeutumiskeino:</p>  <p>Eliöitä:</p>